

Rituels

Calcul mental

Découverte

Recherches

Correction

Mathématiques en classe virtuelle

Préparation du matériel



GROUPES 1 & 2

- * Ardoise ou feuille de brouillon
- * Stylos (bleu, rouge, vert, noir)
- * Cahier de recherches
- * Fiche d'exercices de géométrie

Préparation de l'ordinateur

Allume ton micro, et ta caméra



Dis « Bonjour » dans le tchat et indique si tu entends la maîtresse.

Live Chat



Rituels

Calcul mental

Découverte

Recherches

Correction

Rituels

Prends ton cahier de recherches, écris Numération et écoute les nombres dictés par la maîtresse.

Groupe 1

Dictée de grands
nombres

Groupe 2

Dictée de nombres
décimaux



Rituels – groupe I

Corrige ta dictée en vert.

120 546 870

7 857 042

125 000 359

9 956 201

67 046 397

Range les nombres dans l'ordre décroissant.



Rituels

Calcul mental

Découverte

Recherches

Correction

Rituels – groupe I

Corrige ta dictée en vert.

125 000 359 > 120 546 870 > 67 046 397 >
9 956 201 > 7 857 042



Rituels – groupe 2

Corrige ta dictée.

47,98 / 84,63 / 0,44 / 47,123 /
0,439 / 84,9

Range les nombres dans l'ordre décroissant.



Rituels

Calcul mental

Découverte

Recherches

Correction

Rituels – groupe 2

Corrige le rangement des nombres.

$84,9 > 84,63 > 47,98 > 47,123 > 0,44 >$
 $0,439$



Calcul mental

Écris les résultats de ces calculs sur un brouillon ou sur ton ardoise.

$$143 - 11 =$$

$$98 + 11 =$$

$$350 - 11 =$$

$$645 + 11 =$$

$$279 - 11 =$$

$$73 + 9 =$$

$$427 + 9 =$$

$$35 - 9 =$$

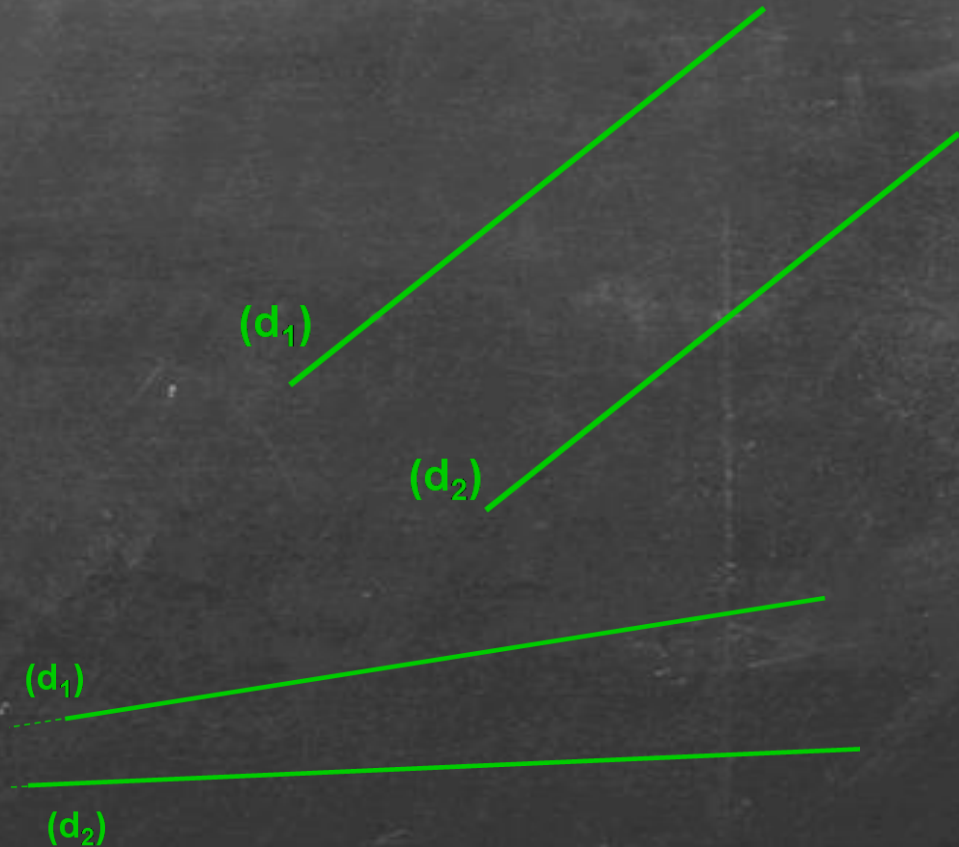
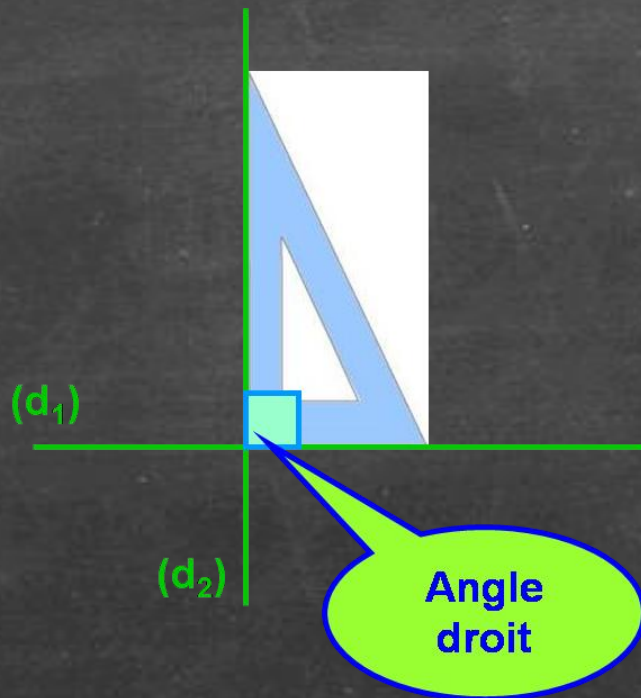
$$68 - 9 =$$

$$214 + 9 =$$



Géométrie

Quels sont les différents types de droites ?



Géométrie

Quels sont les différents types de droites ?

droites PARALLÈLES

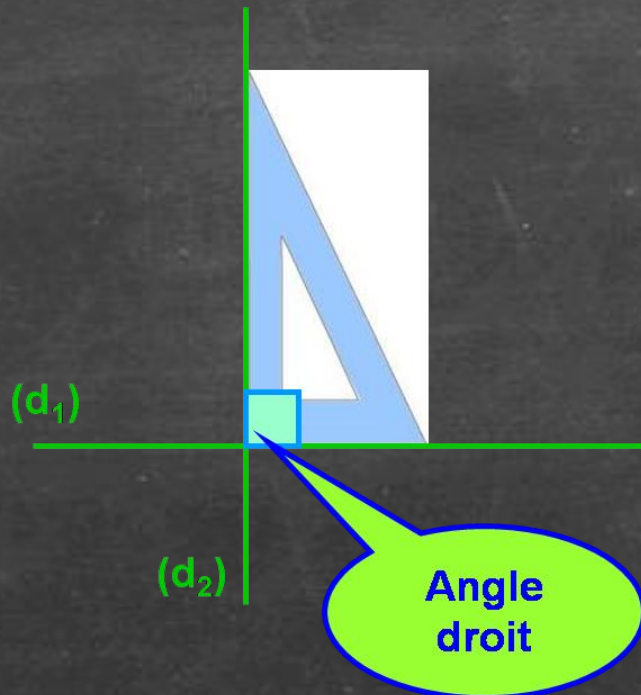
(d₁)

(d₂)

(d₁)

(d₂)

Droites SÉCANTES



droites PERPENDICULAIRES



Géométrie

Prends ta fiche de géométrie, un crayon de bois, une équerre et une règle.

Groupe 1

Géométrie – Les droites parallèles

Coche la bonne réponse :

<input type="checkbox"/> (D1) est parallèle à (D4)	<input type="checkbox"/> vrai	<input type="checkbox"/> faux
<input type="checkbox"/> (D1) est parallèle à (D3)	<input type="checkbox"/> vrai	<input type="checkbox"/> faux
<input type="checkbox"/> (D2) est parallèle à (D4)	<input type="checkbox"/> vrai	<input type="checkbox"/> faux
<input type="checkbox"/> (D4) est parallèle à (D5)	<input type="checkbox"/> vrai	<input type="checkbox"/> faux

Groupe 2

Exercice de géométrie : les droites parallèles

Coche la bonne réponse :

<input type="checkbox"/> (D1) est parallèle à (D4)	<input type="checkbox"/> vrai	<input type="checkbox"/> faux
<input type="checkbox"/> (D1) est parallèle à (D3)	<input type="checkbox"/> vrai	<input type="checkbox"/> faux
<input type="checkbox"/> (D2) est parallèle à (D4)	<input type="checkbox"/> vrai	<input type="checkbox"/> faux
<input type="checkbox"/> (D2) est parallèle à (D6)	<input type="checkbox"/> vrai	<input type="checkbox"/> faux
<input type="checkbox"/> (D4) est parallèle à (D5)	<input type="checkbox"/> vrai	<input type="checkbox"/> faux



Rituels

Calcul mental

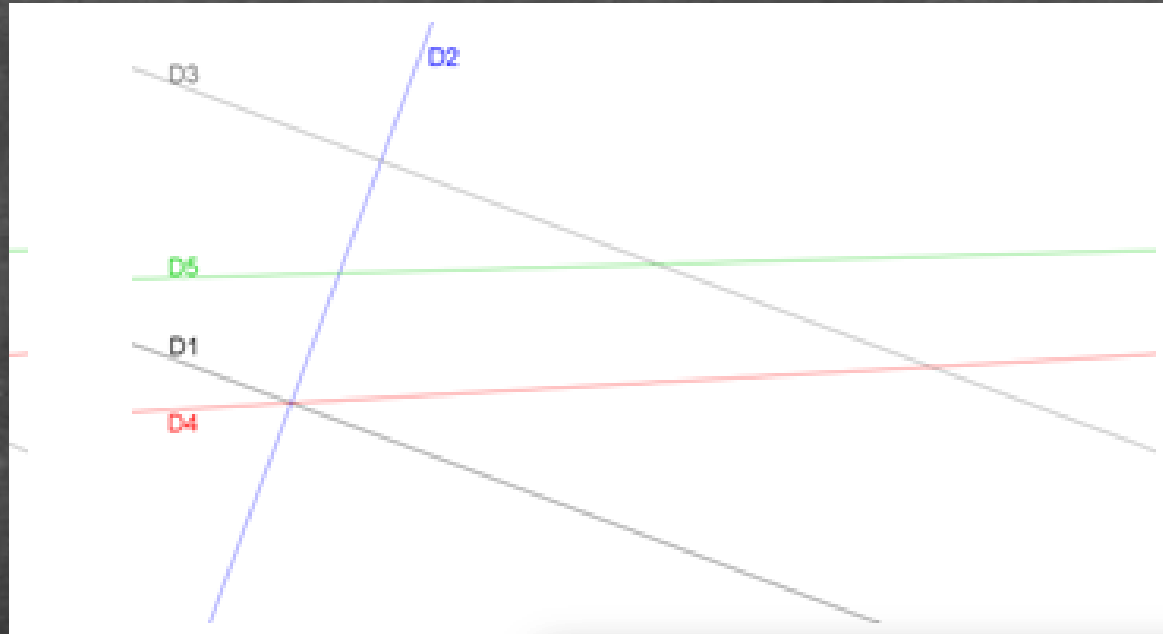
Découverte

Recherches

Correction

Géométrie

Groupe 1



Coche la bonne réponse :

(D1) est parallèle à (D4)	<input type="checkbox"/> vrai	<input type="checkbox"/> faux
(D1) est parallèle à (D3)	<input type="checkbox"/> vrai	<input type="checkbox"/> faux
(D2) est parallèle à (D4)	<input type="checkbox"/> vrai	<input type="checkbox"/> faux
(D4) est parallèle à (D5)	<input type="checkbox"/> vrai	<input type="checkbox"/> faux



Rituels

Calcul mental

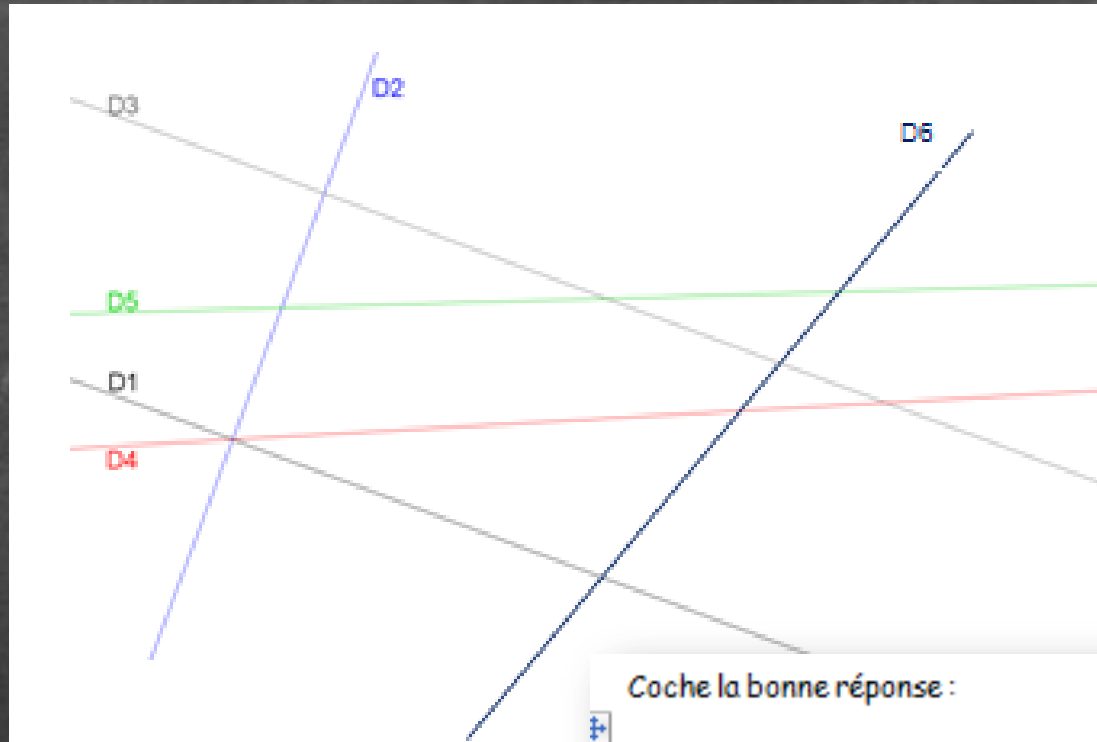
Découverte

Recherches

Correction

Géométrie

Groupe 2



Coche la bonne réponse :



(D1) est parallèle à (D4)	<input type="checkbox"/> vrai	<input type="checkbox"/> faux
(D1) est parallèle à (D3)	<input type="checkbox"/> vrai	<input type="checkbox"/> faux
(D2) est parallèle à (D4)	<input type="checkbox"/> vrai	<input type="checkbox"/> faux
(D2) est parallèle à (D6)	<input type="checkbox"/> vrai	<input type="checkbox"/> faux
(D4) est parallèle à (D5)	<input type="checkbox"/> vrai	<input type="checkbox"/> faux



Rituels

Calcul mental

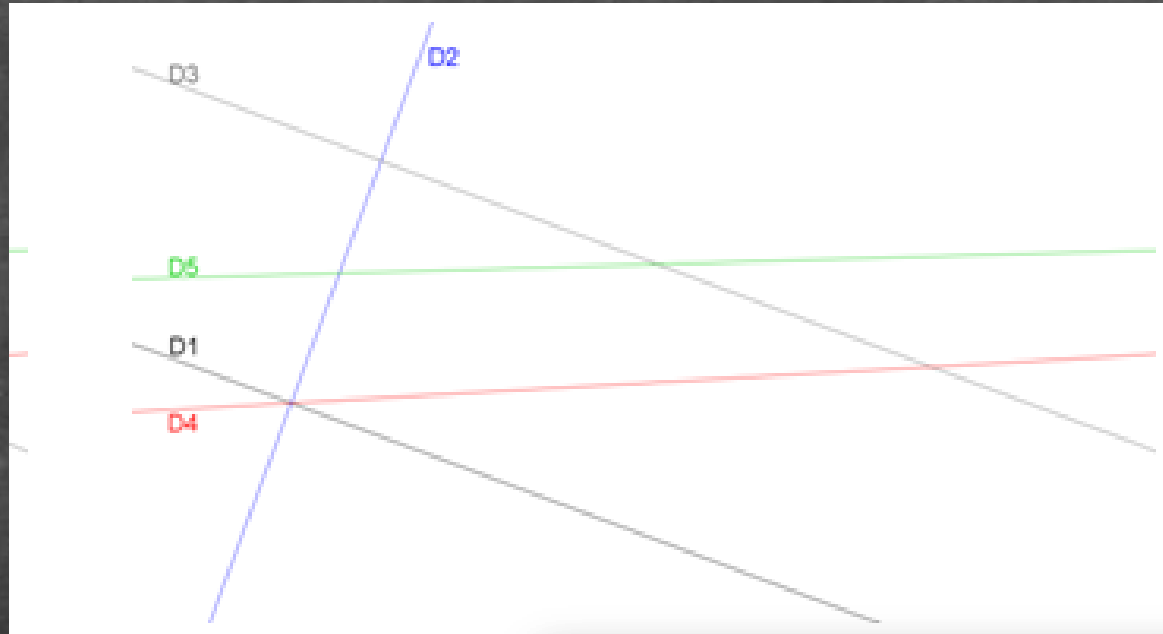
Découverte

Recherches

Correction

Géométrie

Groupe I



Coche la bonne réponse :

(D1) est parallèle à (D4)	<input type="checkbox"/> vrai	<input checked="" type="checkbox"/> faux
(D1) est parallèle à (D3)	<input checked="" type="checkbox"/> vrai	<input type="checkbox"/> faux
(D2) est parallèle à (D4)	<input type="checkbox"/> vrai	<input checked="" type="checkbox"/> faux
(D4) est parallèle à (D5)	<input type="checkbox"/> vrai	<input checked="" type="checkbox"/> faux



Rituels

Calcul mental

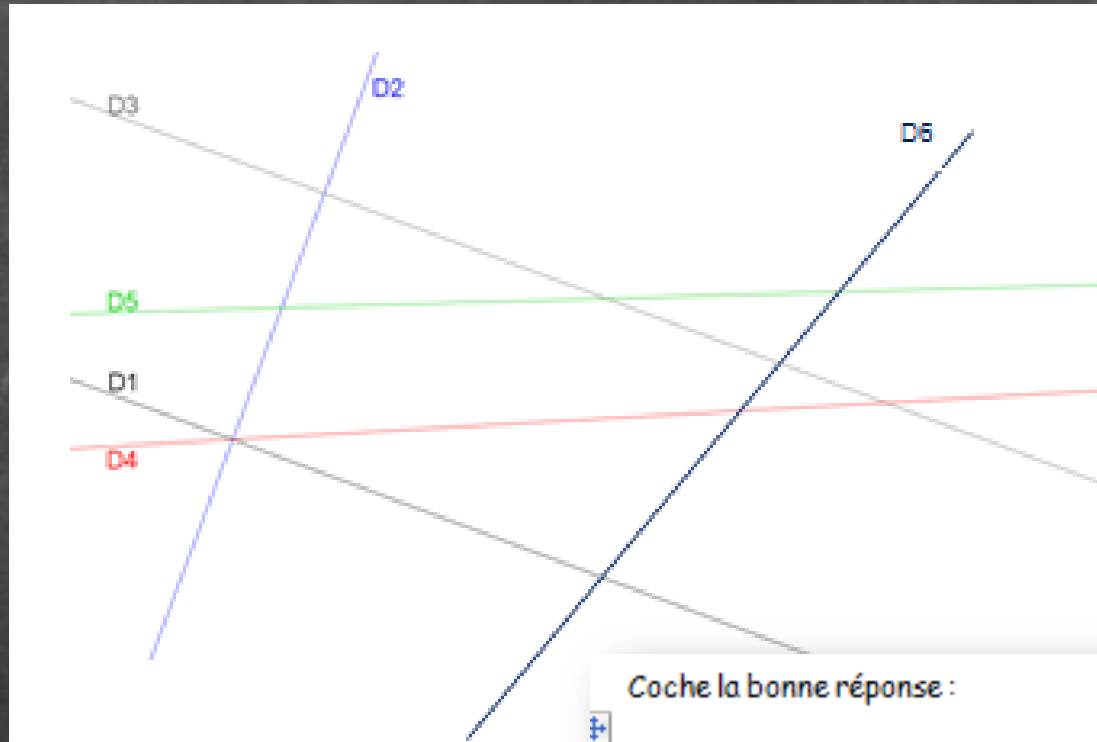
Découverte

Recherches

Correction

Géométrie

Groupe 2



Coche la bonne réponse :



(D1) est parallèle à (D4)	<input type="checkbox"/> vrai	<input checked="" type="checkbox"/> faux
(D1) est parallèle à (D3)	<input checked="" type="checkbox"/> vrai	<input type="checkbox"/> faux
(D2) est parallèle à (D4)	<input type="checkbox"/> vrai	<input checked="" type="checkbox"/> faux
(D2) est parallèle à (D6)	<input type="checkbox"/> vrai	<input checked="" type="checkbox"/> faux
(D4) est parallèle à (D5)	<input type="checkbox"/> vrai	<input checked="" type="checkbox"/> faux

